



































ハイキングでの装備携行品を以下に記入してください。

--

以下の地図記号の意味を記入してください。（10個以上正解で合格）

記号	答え	記号	答え	記号	答え	記号	答え
							
							
							
							
							

以下の追跡サインの意味を記入してください。

       	  	 	
答え	答え	答え	答え

クロスベアリング用の地図を見てください。

とある地点にて45度の方向にアクアトぎふの観覧車が、135度の方向に138タワーが見えました。  
この地点の地図座標を記入してください。

--

北神明公園を1周して野帳に記入してください。作成した野帳をもとに略地図を作成してください。  
あと、作成した野帳をもとにバックベアリングを行ってください。

# 地理院地図

GSI Maps

